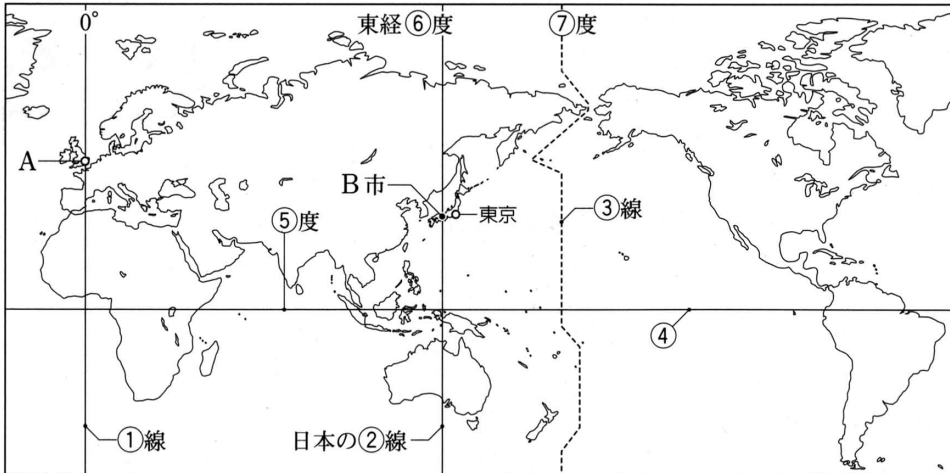


1

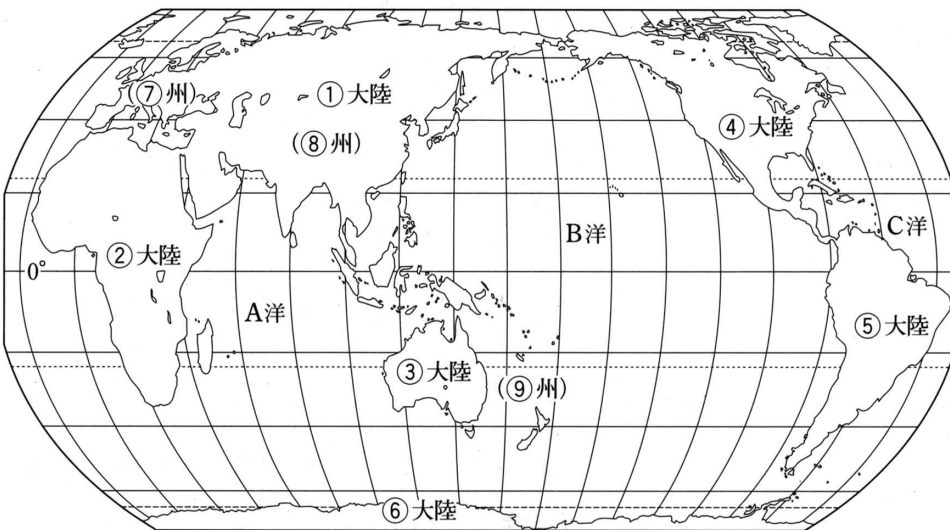
世界の地域構成

1 標準時と時差 ①～④の名称, ⑤～⑦の数値, A・Bの都市名を覚えよう。



- 1
- ①本初子午(線)
ほんしょしご
 - ②標準時子午(線)
ひょうじゆんじ
 - ③日付変更(線)
ひづけへんこう
 - ④赤道
 - ⑤0(度)
 - ⑥135(度)
 - ⑦180(度)
 - Aロンドン
 - B明石(市)
あかし

2 世界の地域区分 ①～⑨の大陸名と州名, A～Cの海洋名を覚えよう。



- 2
- ①ユーラシア(大陸)
 - ②アフリカ(大陸)
 - ③オーストラリア(大陸)
 - ④北アメリカ(大陸)
 - ⑤南アメリカ(大陸)
 - ⑥南極(大陸)
 - ⑦ヨーロッパ(州)
 - ⑧アジア(州)
 - ⑨オセアニア(州)
 - Aインド(洋)
 - B太平(洋)
 - C大西(洋)

3 いろいろな国 位置や形に注意して, ①～⑩の国名を覚えよう。



- 3
- ①イギリス
 - ②イタリア
 - ③エジプト
 - ④ロシア連邦
れんぽう
 - ⑤インド
 - ⑥モンゴル
 - ⑦中国
ちゆうか
(中華人民共和国)
 - ⑧カナダ
 - ⑨アメリカ合衆国
がっしゅうこく
 - ⑩ブラジル

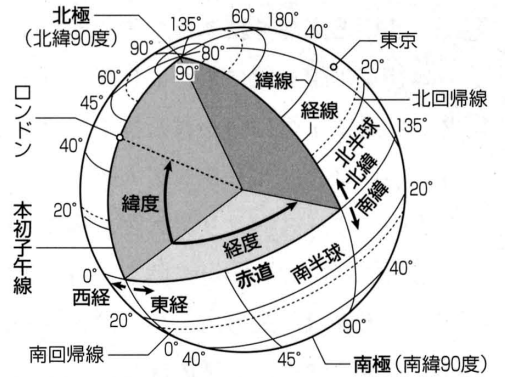


まとめ

① 地球儀と地図

- (1) 経線…北極と南極を結んだたての線。ロンドンを通る本初子午線を境に東西に180度ずつ→東経と西経。⇨①
- (2) 緯線…赤道に平行に引いた横の線。赤道を境に南北に90度ずつ→北緯と南緯。⇨①
- (3) 陸地と海洋…面積の比はおおよそ3：7。⇨②
 - ① 6大陸…ユーラシア(最大)、アフリカ、北アメリカ、南アメリカ、オーストラリア、南極の各大陸。
 - ② 3大洋…太平洋(最大)、大西洋、インド洋。
- (4) 地球儀…面積、方位、角度をほぼ正確に表す。
- (5) 地図…すべてを同時に正確に表すことはできない。
 - ① 角が正しい…緯線と経線が直角に交わる→海図に利用。
 - ② 方位が正しい…航空図に利用。⇨③
 - ③ 面積が正しい…分布図などに利用。
- (6) 標準時…ある国・地域の基準となる時刻→日本は東経135度の経線上(兵庫県明石市を通る)の時刻。
- (7) 時差…標準時のずれ→経度15度で1時間の時差。
- (8) *日付変更線…ほぼ経度180度の経線にそって引かれる。

① 経線と緯線



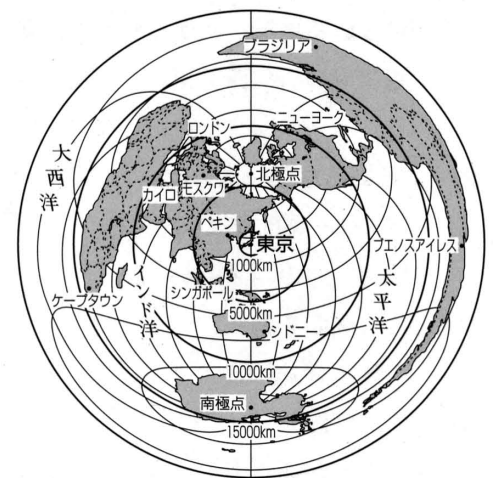
② 6大陸と3大洋



② 世界の地域区分

- (1) 国の3要素…領土、国民、主権(政府)をもつ。
- (2) 国の数…約190の独立国。国連加盟国は192(2007年)。
- (3) 6つの州…アジア、ヨーロッパ、アフリカ、北アメリカ、南アメリカ、オセアニアの各州。
◇ アジア州…東・東南・南・西・中央アジアに5区分。

③ 中心からの距離と方位が正しい地図



③ いろいろな国

- (1) 島国(海洋国)…四方が海→イギリス、フィリピンなど。
- (2) 内陸国…海に面していない→モンゴル、スイスなど。
- (3) 面積の大きい国…ロシア連邦、カナダ、アメリカの順。⇨④
- (4) 面積の小さい国…バチカン市国、モナコ、ナウルの順。
- (5) 人口の多い国…中国、インド、アメリカの順。⇨④
- (6) 特色ある国…エクアドル(赤道が通る)、オランダ(低い土地)、イタリア(長ぐつ形の形)、チリ(細長い)。
- (7) 国境線…山脈、川、湖の自然、経線・緯線を利用。
 - ① 自然…チリとアルゼンチン(アンデス山脈)、アメリカとカナダ(五大湖)。
 - ② 経線・緯線…アフリカの国々に多い。

④ 面積の大きい国と人口の多い国

| 国名 | 面積 (万km ²) | 国名 | 人口 (億人) |
|-----------|------------------------|-----------|---------|
| 1 ロシア連邦 | 1708 | 1 中国 | 13.0 |
| 2 カナダ | 997 | 2 インド | 10.7 |
| 3 アメリカ合衆国 | 963 | 3 アメリカ合衆国 | 2.9 |
| 4 中国 | 960 | 4 インドネシア | 2.1 |
| 5 ブラジル | 851 | 5 ブラジル | 1.8 |

(*05/06年版「日本国勢国会」)

キーワード 本初子午線：イギリスのロンドン郊外のグリニッジ天文台跡を通る経度0度の経線。19世紀の国際会議で決められた。
解説 日付変更線：東から西へ越えるときは日付を1日進め、西から東へ越えるときは日付を1日おくらせる。

確認問題

❶ **地球儀と地図** 次の文の()にあてはまる語句や数字を答えなさい。

- (1) 北極と南極を結ぶたての線を(①)といい、イギリスのロンドンを通る本初子午線を境に東西に(②)度ずつある。
- (2) 赤道に平行に引かれた線を(①)といい、南北に(②)度ずつある。
- (3) 地球には、ユーラシア大陸、(①)大陸、北アメリカ大陸、南アメリカ大陸、オーストラリア大陸、南極大陸の6つの大陸がある。このうち、最も大きいのは(②)大陸である。
- (4) 3大洋は、最も広い()のほか、インド洋、大西洋をいう。
- (5) 陸地と海洋の面積の比は、およそ()である。
- (6) 中心からの()と距離が正しい地図は、おもに航空図に利用される。
- (7) 日本は、兵庫県明石市を通る東経()度での時刻が標準時である。
- (8) 世界各地の(①)時のずれを時差といい、東経0度と東経105度に位置する国の時差は(②)時間である。
- (9) ほぼ180度の経線にそって()線が設けられている。

❶

(1)① _____

② _____

(2)① _____

② _____

(3)① _____

② _____

(4) _____

(5) _____

(6) _____

(7) _____

(8)① _____

② _____

(9) _____

❷ **世界の地域区分** 次の問いに答えなさい。

- (1) 世界の国の数に最も近いものを、次から選べ。
〔 110 150 190 240 〕
- (2) ユーラシア大陸に含まれる2つの州名を書け。
- (3) アジア州を5つに区分した場合、①日本や中国、②タイやインドネシアが含まれる地域を次からそれぞれ選べ。
〔 東アジア 西アジア 南アジア 東南アジア 中央アジア 〕

❷

(1) _____

(2) _____

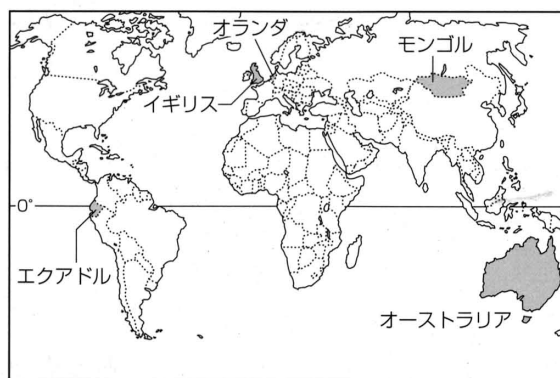
(3)① _____

② _____

❸ **いろいろな国** 次の問いに答えなさい。

- (1) 次の①～⑤にあてはまる国を、右の地図の中から選んで国名を書け。

- ① 島国(海洋国)
□② 内陸国
□③ 赤道が通る国
□④ 低い土地の国
□⑤ 日本と同経度の国



- (2) 世界で最も面積の広い国はどこか。
□(3) 世界で最も人口の多い国はどこか。
□(4) 世界で2番目に人口の多い国はどこか。
□(5) 右の図のように、長ぐつ形の形をした国はどこか。
□(6) アフリカでは、何を利用した国境が多いか。

〔 山脈 川 湖 経線・緯線 〕



❸

(1)① _____

② _____

③ _____

④ _____

⑤ _____

(2) _____

(3) _____

(4) _____

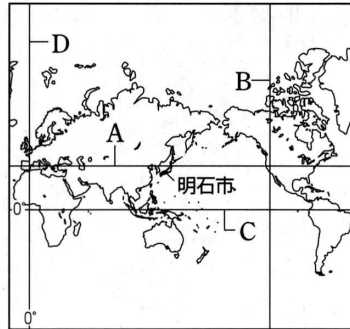
(5) _____

(6) _____

重要図表・統計

1 経線と緯線 右の地図を見て、次の問いに答えなさい。

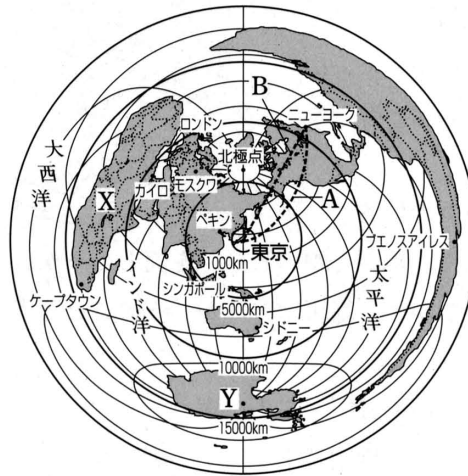
- (1) 地図中のAとBの線を、それぞれ何というか。
- (2) Aの線の基準となる、地図中のCの線をとくに何とよぶか。
- (3) Bの線の基準となる地図中のDの線は、イギリスの何という都市を通っているか。
- (4) 地図中の明石市は、日本の標準時の基準となる経線が通っている。この経線は、東経何度の線か。



- 1 (1) A _____
- _____ B _____
- (2) _____
- (3) _____
- (4) _____

2 地図 図の中心(東京)からの距離と方位が正しい次の地図を見て、あとの問いに答えなさい。

- (1) 次の①～③にあてはまる都市を、地図中から選べ。
 - ① 東京から最も遠い都市。
 - ② 東京に最も近い都市。
 - ③ 東京から5000km以上はなれた、ほぼ真南にある都市。
- (2) 地図中のモスクワは、東京から見てどの方位にあるか。8方位で答えよ。
- (3) 東京からニューヨークまでの最短距離は、地図中のA・Bのどちらか。
- (4) 地図中のXとYの大陸名をそれぞれ書け。



- 2 (1) ① _____
- _____ ② _____
- _____ ③ _____
- (2) _____
- (3) _____
- (4) X _____
- _____ Y _____

3 世界の面積と人口 右の表を見て、次の問いに答えなさい。

- (1) 表中のA～Dにあてはまる国名を書け。
- (2) 広大な地域にまたがるAの国は、何大陸にあるか。
- (3) 人口の多いC・Dの国やインドネシアは、世界を6つの州に分けた場合、何州にあるか。
- (4) Cの国の人口は、世界の総人口のおよそどれくらいか。次から1つ選べ。

| 〈面積の広い国〉(2001年) | | |
|-----------------|------|---------------------------|
| ① | A |1708万km ² |
| ② | カナダ |997万km ² |
| ③ | B |963万km ² |
| ④ | C |960万km ² |
| ⑤ | ブラジル |851万km ² |

| 〈人口の多い国〉(2003年) | | |
|-----------------|--------|----------------|
| ① | C |13億 420万人 |
| ② | D |10億6821万人 |
| ③ | B |2億8837万人 |
| ④ | インドネシア |2億1372万人 |
| ⑤ | ブラジル |1億7687万人 |

- 2分の1 3分の1
 5分の1 10分の1

- 3 (1) A _____
- _____ B _____
- _____ C _____
- _____ D _____
- (2) _____
- (3) _____
- (4) _____

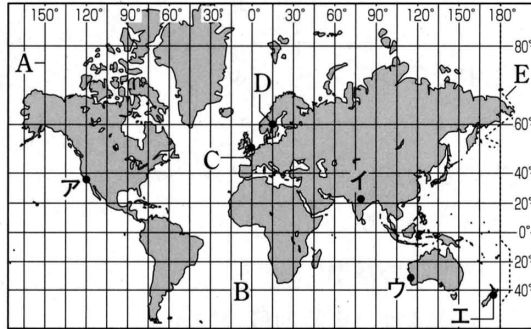
練習問題

1 地球儀と地図 右の地図を見て、次の問いに答えなさい。

(1) 地図Iと地図IIの特色を 地図I

次からそれぞれ選べ。

- ア 面積が正しい。
- イ 中心からの距離と方位が正しい。
- ウ 角が正しい。



(2) 地図I・II中のAとBの線をそれぞれ何というか。

(3) 地図I中のCのロンドンは、日本が午後2時のとき、何時か。次から選べ。

- ア 午前5時 イ 午前9時
- ウ 午後7時 エ 午後11時

(4) 地図I中のD地点の位置について、次の文の()にあてはまる語句と数字を書け。

・(①)15度、北緯(②)度の位置

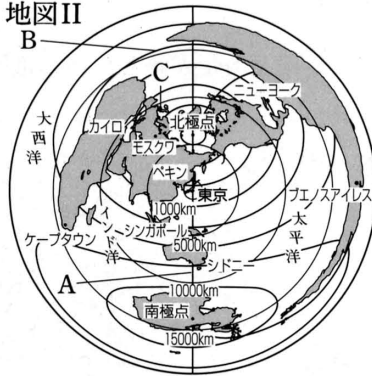
(5) 太平洋上を中心に引かれた、地図I中のEの線を何というか。

(6) 21世紀を世界で最も早くむかえた都市はどこか。(5)のことを考えて、地図I中のア～エから1つ選べ。

(7) 東京から最も遠い都市を、地図II中から1つ選べ。

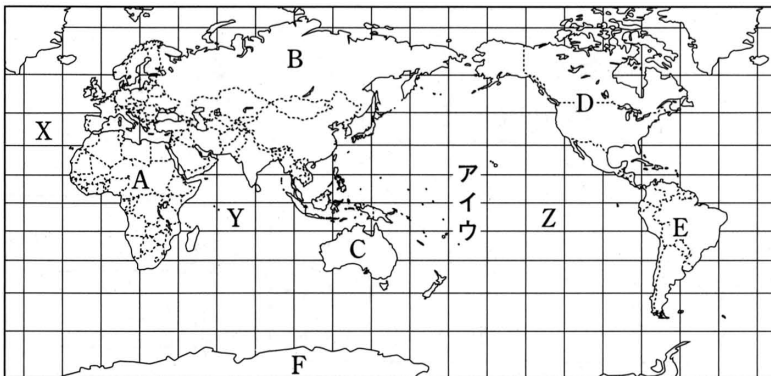
(8) 東京のほぼ南西にある都市を、地図II中から1つ選べ。

地図II



- 1
- (1) I _____
- II _____
- (2) A _____
- B _____
- (3) _____
- (4) ① _____
- ② _____
- (5) _____
- (6) _____
- (7) _____
- (8) _____

2 地球儀と地図 次の地図を見て、あとの問いに答えなさい。



(1) ①最も大きい大陸と、②最も小さい大陸を地図中のA～Fから選び、記号とその大陸名を書け。

(2) ①地図中のX～Zの海洋名を書け。また、②最も大きい海洋を選び、記号を書け。

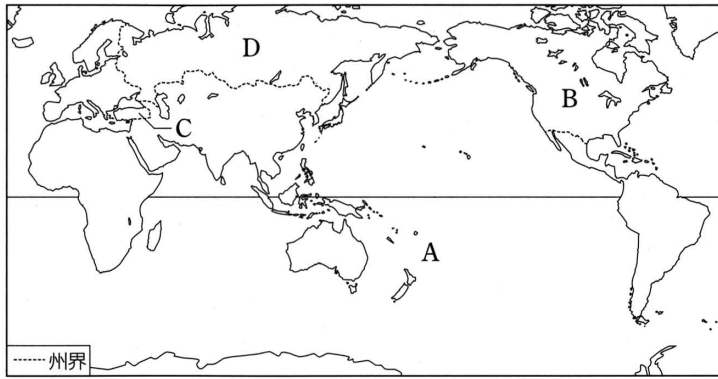
(3) 地球の表面積にしめる、陸地と海洋の面積の比はおよそ何対何か。

(4) 赤道を示すものを、地図中のア～ウから1つ選べ。

- 2
- (1) ①記号 _____
- 大陸 _____
- ②記号 _____
- 大陸 _____
- (2) ① X _____
- Y _____
- Z _____
- ② _____
- (3) _____
- (4) _____

3 世界の地域区分 次の地図を見て、あとの問いに答えなさい。

- (1) 地図中のAとBの州名をそれぞれ書け。
- (2) ユーラシア大陸は、2つの州にまたがって

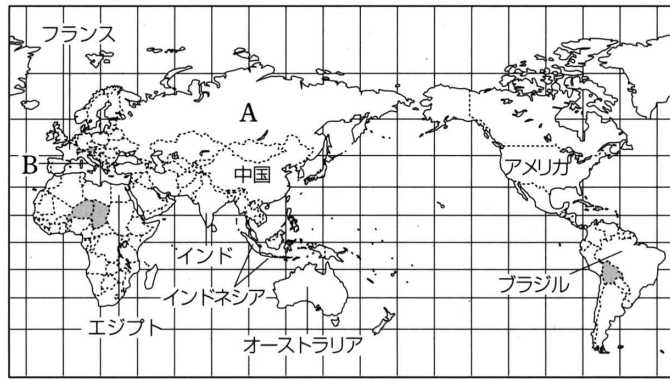


- いる。2つの州を、西側、東側の順に書け。
- (3) ユーラシア大陸の2つの州にまたがる、地図中のCとDの国名を書け。ただし、Cについては、次から選べ。
〔モロッコ イラン サウジアラビア トルコ〕
- (4) ほぼ中央で北半球と南半球に分かれる州はどこか。
- (5) 次の国々は、アジア州をさらに5つに区分した場合、何という地域区分になるか。あとからそれぞれ選べ。
① イラク・イラン・シリア ② インドネシア・タイ・ベトナム
③ 日本・中国・韓国 ④ インド・スリランカ・パキスタン
〔東アジア 西アジア 南アジア 東南アジア 中央アジア〕

- 3
- (1) A _____
B _____
- (2) 西側 _____
東側 _____
- (3) C _____
D _____
- (4) _____
- (5) ① _____
② _____
③ _____
④ _____

4 いろいろな国 次の地図を見て、あとの問いに答えなさい。

- (1) 地図中のAは世界最大、Bは世界最小の国である。A・Bの国名を書け。
- (2) Bの国は、何という国の首都にあるか。



- (3) ①世界一人口の多い国と、②2番目に多い国を地図中から選べ。
- (4) 地図中に で示した国々のように、まったく海に面していない国を何というか。
- (5) (4)に対して、日本やイギリスのように、まわりを海に囲まれた国を何というか。
- (6) ①・②の国を、次からそれぞれ選べ。
① 低い土地を意味する国 ② スペイン語で赤道を意味する国
〔カナダ スペイン オランダ エクアドル インド〕
- (7) チリとアルゼンチンの国境線となっている山脈を何というか。
- (8) 経線や緯線が国境線となっている国がとくに多い地域を、次から選べ。
〔アジア ヨーロッパ アフリカ 南アメリカ〕

- 4
- (1) A _____
B _____
- (2) _____
- (3) ① _____
② _____
- (4) _____
- (5) _____
- (6) ① _____
② _____
- (7) _____
- (8) _____