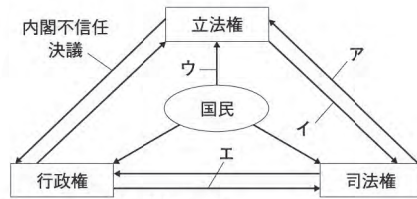


10	公民総合・3分野融合	クラス	番	得点	実施日
		氏名		/100点	/

1 次の問いに答えなさい。

- (1) 右の図は、日本の三権の抑制と均衡を示したものである。法律が憲法に違反していないかどうかを審査することを示しているものはどれか。図中のア～エから選び、記号で答えなさい。

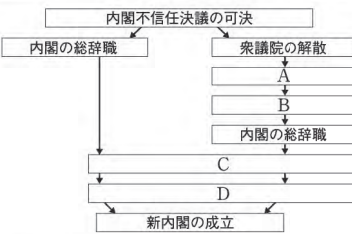


- (2) 政党や国会、内閣について述べた文として誤っているものを、次から1つ選び、記号で答えなさい。
- ア 内閣を組織し、政権を担当する政党を与党といい、それ以外の政党を野党という。  
 イ 常会(通常国会)は、毎年1回、1月中に開かれ、会期は150日間である。  
 ウ 内閣は、法律案や予算案をつくり、外国と条約を結んだりする。  
 エ 内閣の長である内閣総理大臣は、すべての国務大臣が参加する閣議で任命される。

- (3) 次の文中の□にあてはまることばを簡潔に答えなさい。

日本や多くの国で三権が相互に抑制し合う三権分立制がとられているのは、1つの機関に□ことを防ぐためである。

- (4) 右の図は、内閣不信任決議の可決から新内閣成立までの流れを示している。図中のA～Dにあてはまるものを、次からそれぞれ選び、記号で答えなさい。

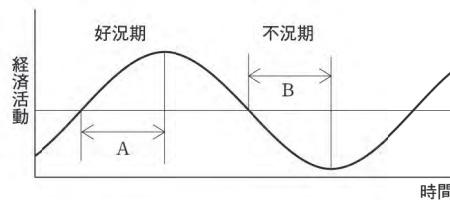


(4)5点、他各4点

(1)	(2)	(3)	
(4) A	B	C	D

2 次の問いに答えなさい。

- (1) 右の図は、一般的な景気変動の波を模式的に表したものである。これについて、次の問いに答えなさい。



- ① 図中のAの期間に一般的に見られる企業の状態と政府の対応として、最も適切な組み合わせを次から選び、記号で答えなさい。

	ア	イ	ウ	エ
企業の状態	生産の縮小	生産の縮小	生産の拡大	生産の拡大
政府の対応	減税	増税	減税	増税

- ② 図中のBの期間に見られることのある、物価が下がり続ける状態のことを何というか。

- (2) わが国の税について、右の表のように分類したとき、表中のa、bに入る最も適切な組み合わせを次から選び、記号で答えなさい。

- ア a 法人税, 消費税      b 関税, 所得税  
 イ a 所得税, 法人税      b 消費税, 関税  
 ウ a 関税, 所得税      b 法人税, 消費税  
 エ a 消費税, 関税      b 所得税, 法人税

	直接税	間接税
国税	a	b
地方税	固定資産税	ゴルフ場利用税

- (3) 消費者保護に関して、次の問いに答えなさい。

- ① 訪問販売や電話勧誘などで商品を購入した場合、一定期間内であれば、消費者側からその契約を取り消すことができる制度を何というか。  
 ② 日本では、企業の健全な競争を維持し、カルテルなどによる不利益から消費者を守るために、市場の独占を監視する機関が設置されている。この機関を何というか。

各4点

(1) ①	②	(2)	
(3) ①		②	

3 次の文を読んで、あとの問いに答えなさい。

グローバル化が進展する中で、地球上には、依然として<sup>①</sup>貧困や飢餓、地域紛争やテロ、<sup>②</sup>人権の抑圧など数多くの問題が存在し、それらが複雑にからみ合っている。これらの問題の中には、<sup>③</sup>環境問題のように、地球的規模の問題として国境をこえ、人間にとって大きな脅威となっているものも少なくない。

- (1) 下線部①に悩む発展途上国の経済開発や福祉の向上のために、先進国の政府や政府機関が行ってきたさまざまな技術協力や資金協力などの経済援助の略称を、アルファベット3字で答えなさい。  
 (2) 下線部②に関連して、日本国憲法の3つの基本原理の1つに「基本的人権の尊重」がある。次の①～③の文は、日本国憲法で保障されている基本的人権について述べている。①～③の文をその内容から自由権、平等権、社会権に分けたとき、あてはまる権利をあとからそれぞれ選び、記号で答えなさい。

- ① 能力に応じてひとしく教育を受ける権利を有している。  
 ② 信条や性別などによって差別されない。  
 ③ 財産権は侵してはならない。

ア 自由権      イ 平等権      ウ 社会権

- (3) 地球規模で発生している下線部③について述べた次の文中の□A・□Bにあてはまる語句の組み合わせとして正しいものをあとから選び、記号で答えなさい。

地球環境問題への対策としてさまざまな国際協力が行われてきた。1992年にはリオデジャネイロで国連環境開発会議(地球サミット)が開かれ、環境保全や□A開発(発展)などについて討議された。1997年には京都で□B防止のための国際会議が開かれ、二酸化炭素などの排出量の削減が決定された。よりよい環境を将来の世代に引きつぎ、国際協力によって地球環境の保全を進めていくことが大切である。

- ア A 持続可能な      B 酸性雨      イ A 最低限度の      B 酸性雨  
 ウ A 持続可能な      B 地球温暖化      エ A 最低限度の      B 地球温暖化

(2)5点、他各4点

(1)	(2) ①	②	③
			(3)



4 次の資料は、日本アセアンセンターが作成したパンフレット「ASEAN」に掲載された文章の一部である。これを読んで、あとの問いに答えなさい。

ASEAN(東南アジア諸国連合)は、東南アジア地域の10か国が加盟する地域協力機構です。1967年の「ASEAN設立宣言」により、インドネシア、マレーシア、フィリピン、, ③タイの5か国で設立されました。④東南アジア地域の平和と安定を実現させるため「地域の問題は、外部からの干渉を排除し、地域諸国自身によって解決する」という考え方にもとづいています。

設立の目的としては次の3つがあげられます。

- 1 東南アジア地域の ㉓経済成長、社会・㉔文化的発展の促進
- 2 東南アジア地域の政治・経済的安定の確保
- 3 東南アジア諸国間のさまざまな問題の解決

(1) 次の文はにあてはまる国について述べたものである。この国はどこか。あとから選び、記号で答えなさい。

この国はマレーシアに隣接する国で、1965年にマレーシアから独立して以来、急速に経済成長をとげ、アジアの中で工業化の進んだ国の1つになっている。

- ア シンガポール      イ インド  
ウ ベトナム          エ サウジアラビア

(2) 下線部㉑について、この国は日本との交流が古くからあり、かつてはシャムとよばれていた。徳川家康は、シャムなどに向かう船に許可状をあたえ、貿易をすすめた。このような貿易許可状をもつ船によって行われた貿易を何というか。

(3) 下線部㉒について、1992年から1993年にかけて、国際連合は停戦の監視など、カンボジアの平和と安全を維持する活動を行った。国際連合が紛争地域において行うこのような活動を何というか。次から選び、記号で答えなさい。

- ア WTO      イ PKO      ウ WHO      エ NGO

(4) 下線部㉓について、次の表Iはインドネシアの原油の生産量、輸出量、生産量に占める輸出量の割合を示し、表IIはインドネシアの国内総生産に占める第2次産業の割合を示している。インドネシアの原油の生産量に占める輸出量の割合が、表Iに示すように変化したのはなぜだと考えられるか。そのおもな理由を、表IIをもとに答えなさい。

年	生産量 (万t)	輸出量 (万t)	生産量に占める 輸出量の割合(%)
1970	4,260	2,992	70.2
2000	6,897	3,037	44.0

(1990/91年版、2003/04年版「世界国勢図会」)

年	国内総生産に占める 第2次産業の割合(%)
1970	17.9
2000	45.9

(1990/91年版、2008/09年版「世界国勢図会」)

(5) 下線部㉔について、右の資料はカンボジアの国旗を示し、この国旗の中央にはアンコール・ワットとよばれる寺院建築がえがかれている。アンコール・ワットなど、人類共通の財産として国際的に保護されている文化財を何というか。



(4)6点、他各4点

(1)	(2)	(3)	(4)
(5)			

5 次のA～Eは、ひであきくんが社会科の授業で学習したことをカルタにしたものである。これを見て、あとの問いに答えなさい。

A あ 解 体  始 まる 民 主 化  (は)	B 増 える 国 民 総 生 産  高 度 経 済 成 長 期  (こ)	C ベル リン の 壁  東 西 の 厳 しい 対 立  (と)	D い 保 険 制 度  み ん な 支 え る  (み)	E 人 口 問 題  日 本 の 課 題 山 積 み  (に)
---	---	--	---	--

(1) Aのには、金融・貿易・鉱山業などの多角経営を行い、第二次世界大戦前の日本経済を支配した資本家とその集団を表す語句があてはまる。にあてはまる語句を答えなさい。

(2) Bの高度経済成長期について、次の問いに答えなさい。

① 当時の日本国内の様子について述べた文として適切なものを、次から選び、記号で答えなさい。

- ア 内閣が1つの政党ではなく、複数の政党から組織されることが多くなった。  
イ 水俣病などの公害が深刻化し、各地で公害追放の住民運動がおこった。  
ウ インターネットの利用が増加し、オンライン・ショッピングが普及した。  
エ 行政改革がさげばれ、効率化をはかるための様々な取り組みが進められた。

② 日本の高度経済成長期は、ある資源の価格上昇がきっかけで終わりをむかえた。ある資源とは何か、答えなさい。

(3) Cについて、次の問いに答えなさい。

① 第二次世界大戦後から続いた、ソ連を中心とした東側陣営と、アメリカを中心とした西側陣営とのきびしい対立を何というか。

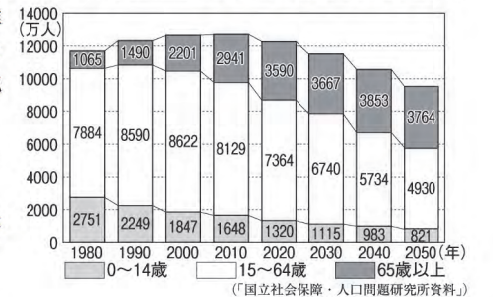
② ベルリンの壁があった現在の国について述べた文として適切でないものを次から1つ選び、記号で答えなさい。

- ア EUに加盟している。      イ キリスト教を信仰している人が多い。  
ウ サンベルトで工業がさかんである。      エ 通貨はユーロを使用している。

(4) Dは、2000年4月から実施された新しい保険制度を表している。にあてはまる語句を答えなさい。

(5) Eについて、右の資料は、日本の年齢別人口の推移と推計を表している。この資料から読み取ることができる内容として適切なものを、次から選び、記号で答えなさい。

- ア 1980年に比べて2040年の0～14歳の人口は、3分の1以下に減少する。  
イ 1990年から2050年にかけて、15～64歳の人口は減り続けていく。  
ウ 2000年に比べて2040年の65歳以上の人口は、1.5倍以上に増加する。  
エ 2010年に比べて2050年の総人口は、4000万人以上減少する。



各4点

(1)	(2) ①	②	(3) ①	②
(4)	保険	(5)		